



Enintään 6 tehtävään saa vastata. Tehtävät arvostellaan pistein 0–6, paitsi muita vaativimmat, +:lla merkityt jokeritehtävät, jotka arvostellaan pistein 0–9. Kumpaankin jokeritehtävään saa vastata. Moniosaisissa, esimerkiksi a-, b- ja c-kohdan sisältävissä tehtävissä voidaan erikseen ilmoittaa eri alakohtien enimmäispistemäärät.

1. Kiinan uskontotilanne nykypäivänä
2. Alla olevat kaksi profeetallista tekstiä puhuvat niin sanotusta Israelin pakkosiirtolaisuudesta. Mitä tarkoitetaan Israelin pakkosiirtolaisuudella, ja miten kyseiset tekstit liittyvät pakkosiirtolaisuuden kokemukseen?


Te juotte viiniä uhrimaljoista ja voitelette itsenne parhaalla öljyllä, mutta Joosefin heimon vamma ei teitä liikuta. Sen tähden teidän käy nyt näin: Vankisaattueen kärjessä te marssitte vieraaseen maahan. Loikojien juhlat on juhlittu. (Aam. 6:6,7)

Lohduttakaa, lohduttakaa minun kansaani, sanoo teidän Jumalanne. Puhukaa lempeästi Jerusalemile ja kertokaa sille, että sen pakkotyö on päättynyt, että sen syyllisyys on sovitettu, sillä kaksin verroin on Herran käsi sitä kurittanut kaikista sen synneistä. (Jes. 40:1,2)

3. Paaviuden synty, kehitys ja keskeinen sisältö
4. Selitä seuraavien kahden taideteoksen kristillinen sisältö.

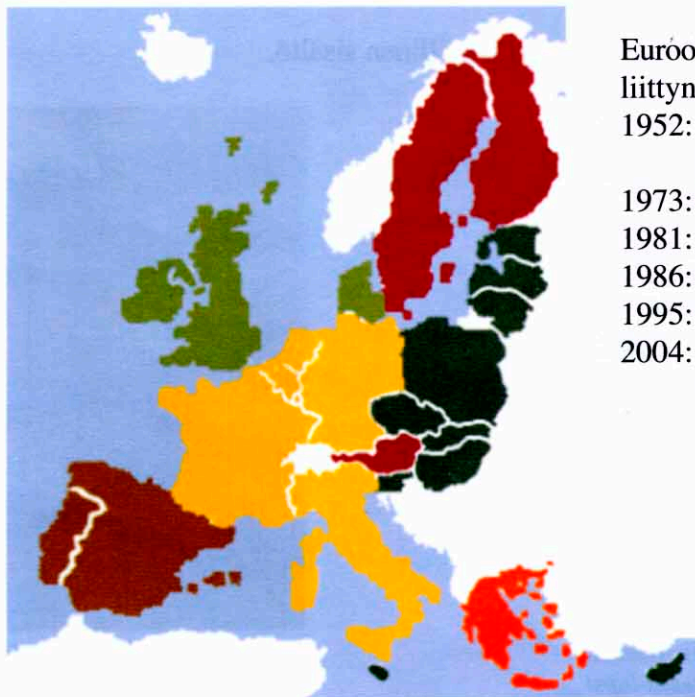


Elisabetta Siranin mukaan,
Neitsyt Maria ja Jeesus-lapsi



Albert Edelfelt, *Kristus ja Matalena*

5. Uusien tutkimusten mukaan (Moderni kirkkokansa 2003) suomalaisten uskonnollinen aktiivisuus on eurooppalaista keskitasoa. Tästä yleiskuvasta poikkeaa kuitenkin voimakkaasti suomalaisten aktiivisuus rippikoulun kävijöinä. Esimerkiksi vuonna 1985 syntyneistä kastettiin 57 561 lasta (91,7 % kaikista syntyneistä). Vuonna 2000 kävi 57 991 viisitoista vuotta täyttävää nuorta rippikoulun (lukuun sisältyy jonkin verran myös vanhempien ikäluokkien edustajia). Vuonna 2000 rippikoulun yhteydessä kirkkoon liittyi 2 024 nuorta. Vastaavaa asemaa luterilaisen kirkon rippikoululla ei ole missään muussa maassa. Pohdi, mihin rippikoulun suosio perustuu ja miten tällaiset tilastotiedot voidaan suhteuttaa suomalaisten uskonnollisen aktiivisuuden yleiseen tasoon.
6. NykYTEknologia mahdollistaa ihmisen lisääntymisen keinohedelmöityksen avulla. Millaisia eettisiä kysymyksiä tähän asiaan liittyy kristillisen etiikan näkökulmasta?
7. Ehtoollinen yhdistää kristittyjä, mutta myös erottaa heitä toisistaan. Luterilaisen ja katolisen kirkon välisten ekumeenisten neuvottelujen yksi päämäärä on yhteisen ehtoollispöydän avaaminen. Mitä yhdistäviä ja erottavia tekijöitä on luterilaisen ja katolisen kirkon ehtoollisopeissa?
8. Luostarilaitos on säilynyt kristinuskon piirissä elinvoimaisena varhaisesta kirkosta aina nykypäivään asti. Pohdi, millaisia henkilökohtaisia syitä ja pyrkimyksiä voi olla ihmisellä, joka hakeutuu luostariin loppuelämäkseen.
- +9. Oheisessa kartassa Euroopan unionin jäsenmaat on kuvattu eri värein liittymisajankohdan mukaan. Miten eri kirkkokuntien ja eri uskontojen suhteellinen osuus ja yhteiskunnallinen merkitys on muuttunut Euroopan unionin laajetessa?



Euroopan unionin jäsenvaltioiksi ovat liittyneet seuraavat valtiot:

1952: Italia, Ranska, Luxemburg, Belgia, Saksa, Alankomaat

1973: Tanska, Irlanti, Britannia

1981: Kreikka

1986: Espanja, Portugali

1995: Itävalta, Suomi, Ruotsi

2004: Tšekki, Viro, Kypros, Latvia, Liettua, Unkari, Malta, Puola, Slovakia, Slovenia

Lähde: Euroopan keskuspankki

- +10. Ruokaan liittyvät uskonnolliset säännöt ja merkitykset suurissa maailmanuskonnoissa



Enintään 6 tehtävään saa vastata. Tehtävät arvostellaan pistein 0–6, paitsi muita vaativimmat, +:lla merkityt jokeritehtävät, jotka arvostellaan pistein 0–9. Kumpaankin jokeritehtävään saa vastata. Moniosaisissa, esimerkiksi a-, b- ja c-kohdan sisältävissä tehtävissä voidaan erikseen ilmoittaa eri alakohtien enimmäispistemäärät.

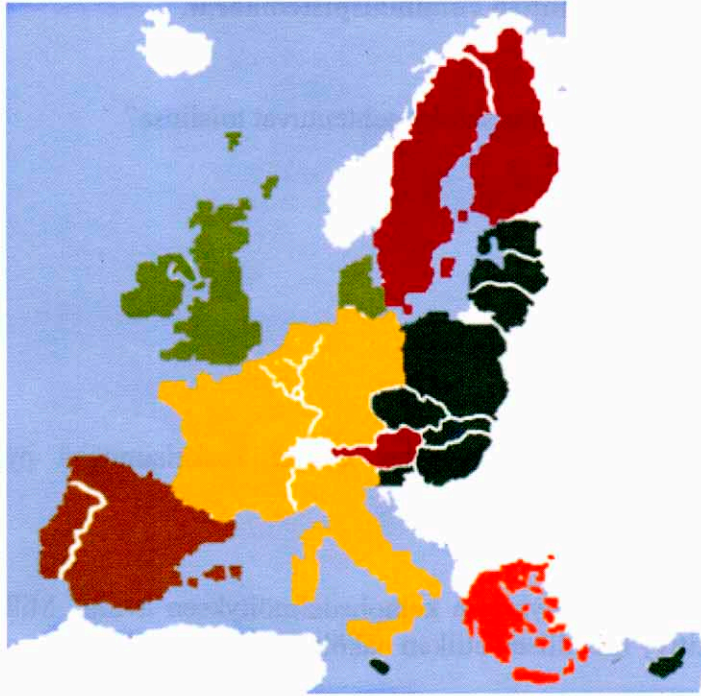
1. Miten kymmenen käskyn laki ja rakkauden kaksoiskäsky suhteutuvat toisiinsa?
2. Miten kristinusko tuli Suomeen?
3. Venäjän kirkko kommunismin ajalla
4. Miksi ehtoollisen sakramenttia pidetään ortodoksisen kirkon keskeisimpänä pyhänä toimituksena?
5. NykYTEknologia mahdollistaa ihmisen lisääntymisen keinohedelmöityksen avulla. Millaisia eettisiä kysymyksiä tähän asiaan liittyy kristillisen etiikan näkökulmasta?
6. Tarkastele alla olevan tekstin käyttöä ja opillista sisältöä.

Oi Jeesus Kristus, sinä pyhän kunnian, iankaikkisen taivaallisen Isän, pyhän autuaan, ihana Valkeus. Elettyämme auringon laskuun, nähtyämme illan koiton me veisaten ylistämme Jumalaa, Isää, Poikaa ja Pyhää Henkeä. Jumalan Poika, elämän antaja. Kohtuullista on, että sinulle kaikkina aikoina hartain äänin ylistystä veisataan. Sen tähden maailma sinua ylistää.

Rukouskirja *Orologion*

7. Usein sanotaan, että kirkkolaulu on tunnusomaista ortodoksiselle jumalanpalvelukselle. Mikä merkitys kirkkolaululla on ortodoksisessa jumalanpalveluksessa ja muussa ortodoksisessa hengellisyydessä?
8. Kärsimyksen ongelma buddhalaisuudessa

- +9. Oheisessa kartassa Euroopan unionin jäsenmaat on kuvattu eri värein liittymisajankohdan mukaan. Miten eri kirkkokuntien ja eri uskontojen suhteellinen osuus ja yhteiskunnallinen merkitys on muuttunut Euroopan unionin laajetessa?



Euroopan unionin jäsenvaltioiksi ovat liittyneet seuraavat valtiot:

1952: Italia, Ranska, Luxemburg, Belgia, Saksa, Alankomaat

1973: Tanska, Irlanti, Britannia

1981: Kreikka

1986: Espanja, Portugali

1995: Itävalta, Suomi, Ruotsi

2004: Tšekki, Viro, Kypros, Latvia, Liettua, Unkari, Malta, Puola, Slovakia, Slovenia

Lähde: Euroopan keskuspankki

- +10. Miten ortodoksisten kirkkojen asenne ekumeeniseen liikkeeseen ja osallistuminen Kirkkojen maailmanneuvoston työhön on kehittynyt vuodesta 1948 nykypäivään?